




















Station 4 – Weihnachtsbäume

Stellen Sie an jedem Haus einen Weihnachtsbaum auf. Er soll entweder direkt neben, über oder unter dem Haus stehen, also nicht diagonal dazu. Die Bäume dürfen jedoch nicht direkt nebeneinanderstehen, auch nicht auf diagonal angrenzenden Feldern. Die Zahlen am Rand bestimmen die Anzahl der Bäume in der jeweiligen Reihe bzw. Spalte.

	2	3	1	4	1	2	2	2	1	3
4										
0										
4										
0										
3										
1										
1										
4										
1										
3					